

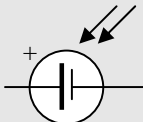
## EL RECORREGUT DE L'ENERGIA HIVERNACLE AMB ENERGIES NETES



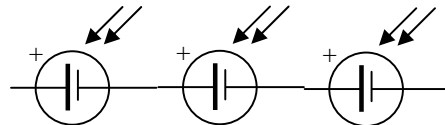
*Circuits amb generadors fotovoltaics*

**Grup de Treball classe**

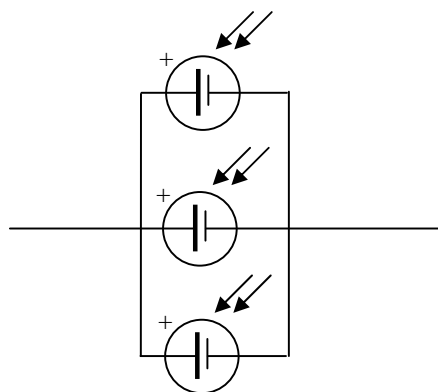
Troba la intensitat i el voltatge total dels següents circuits.

Cada  representa un generador de 1,5 V i 300 mA.

1.



2.



3.

